




Kék Trapéz

 Jelölés

 Ismerősök



Egyenlőszárú 3szög




Nyolcszög



Karikás kör



Hegyes Nyíl



Paralelogramma



Szív



Téglalap



Csúcsos Csillag



Körzői Tánc Csapat



Szúrós Szög



Sárga Sári a ceruza

Kék Trapéz

2020. ápr. 23. csütörtök


Trapéz szerkesztése 4 adból



$t=5$
 $d=3$
 $\alpha=45^\circ$
 $\gamma=63^\circ$

1. c oldal megrajzolása
2. D és C csúcsba a szögek megrajzolása
3. d oldal hossza (A csúcs)
4. párhuzamos állítása az A csúcsba
5. megrajzoljuk a trapézt



 Tetszik

 Hozzászólás

 Megosztás

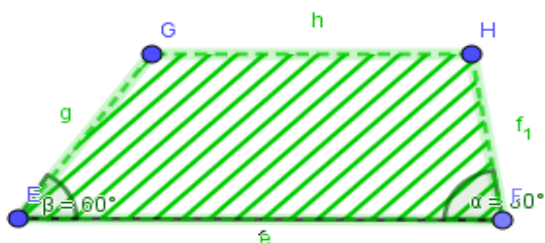
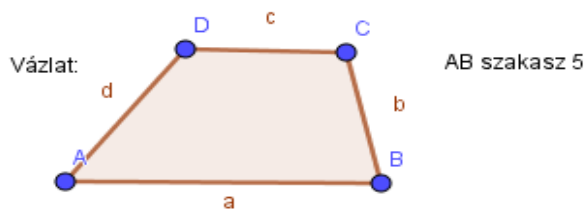
Hozzászólás írása...



A közzétételhez nyomd le az Enter billentyűt.

Kék Trapéz

2020. ápr 23. csütörtök



Tetszik

Hozzászólás

Megosztás

Hozzászólás írása...



A közzétételhez nyomd le az Enter billentyűt.

Kék Trapéz

2020. ápr. 24. péntek

Mi a legfájdalmasabb a matematikában??

A szemben lévő szög.



Tetszik

Hozzászólás

Megosztás

Hozzászólás írása...



A közzétételhez nyomd le az Enter billentyűt.

Kék Trapéz

2020. ápr. 24. péntek

Mi a közös a matematikában és az evésben??

A szám.



Tetszik

Hozzászólás

Megosztás

Hozzászólás írása...

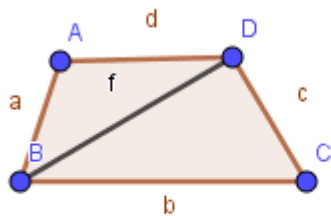


A közzétételhez nyomd le az Enter billentyűt.

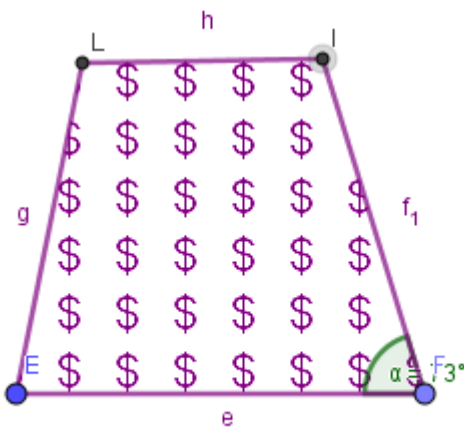
Kék Trapéz

2020. ápr. 24. péntek

Vázlat:



$$\begin{aligned} a &= 6 \\ f &= 7 \\ c &= 4 \\ \beta &= 73^\circ \end{aligned}$$



Tetszik

Hozzászólás

Megosztás

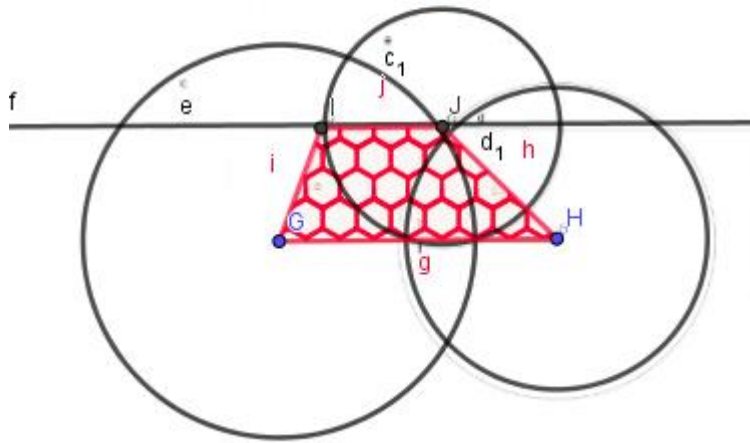
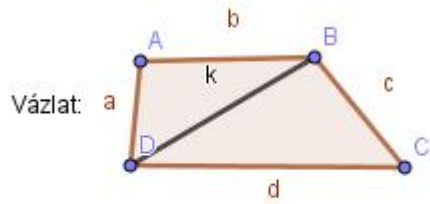
Hozzászólás írása...



A közzétételhez nyomd le az Enter billentyűt.

Kék Trapéz

2020. 04. 24. péntek



Tetszik

Hozzászólás

Megosztás

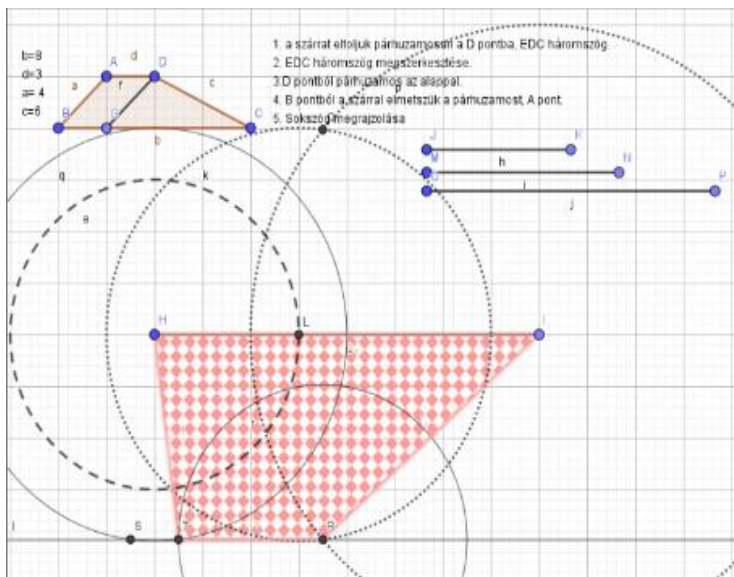
Hozzászólás írása...



A közzétételhez nyomd le az Enter billentyűt.

Kék Trapéz

2020. április 27. hétfő





 Tetszik

 Hozzászólás

 Megosztás

Hozzászólás írása...



A közzétételhez nyomd le az Enter billentyűt.

by: Závodnyi Rebecka 7.b